

Steluța Dan • Carmen Camelia Rădulescu • Zamfir Datcu  
Nicolae Lazăr • Dumitru Voicu

**geografia  
continentelor  
extraeuropene**

**7**

**Libris**.RO

Respect pentru oameni și cărți

**Steluța DAN**  
**Carmen Camelia RĂDULESCU**  
**Zamfir DATCU**  
**Nicolae LAZĂR**  
**Dumitru VOICU**

# Geografia continentelor extraeuropene

Caiet pentru clasa a VII-a

**art**  
educațional

© Art Educațional, un proiect al Art Edit SRL 2017

Argument .....	4
----------------	---

## PARTEA I. Asia – caracteristici generale

1. Poziția geografică, limite și întindere .....	6
2. Relieful .....	8
3. Clima .....	10
4. Hidrografia .....	12
5. Vegetația, fauna și solurile .....	14
6. Populația și așezările umane .....	16
7. Harta politică. Tipuri de state .....	18
8. Resursele naturale și economia .....	20

## PARTEA a II-a. Asia – regiuni și țări

1. Asia de Vest și de Sud-Vest (Orientul Apropiat și Mijlociu) – elemente specifice .....	24
1.1. Israel .....	26
1.2. Turcia .....	28
2. Asia de Sud – elemente specifice .....	30
2.1. India .....	31
3. Asia de Est și de Sud-Est – elemente specifice .....	32
3.1. China (Republica Populară Chineză) .....	34
3.2. Japonia .....	36
3.3. Indonezia (Republica Indonezia) .....	38
Asia – Sintează .....	40
Test de autoevaluare .....	42

## PARTEA I. Africa – caracteristici generale

1. Poziția geografică, limite și întindere .....	46
2. Relieful .....	48
3. Clima .....	49
4. Hidrografia .....	50
5. Vegetația, fauna și solurile .....	52
6. Populația și așezările umane .....	53
7. Harta politică .....	56
8. Resursele naturale și economia .....	57

## PARTEA a II-a. Africa – regiuni și țări

1. Regiunile geografice ale Africii. Diferențieri fizico-geografice, demografice și economice .....	60
--	----

2. Republica Africa de Sud și Egipt – privire comparativă .....	61
Africa – Sintează .....	63
Test de autoevaluare .....	65

## PARTEA I. America – caracteristici generale

1. Poziția geografică, limite și întindere .....	68
2. Relieful .....	70
3. Clima .....	72
4. Hidrografia .....	74
5. Vegetația, fauna și solurile .....	78
6. Populația și așezările umane .....	80
7. Harta politică. Deosebiri demografice teritoriale. Tipuri de state .....	84
8. Resursele naturale și economia .....	86

## PARTEA a II-a. America de Nord și Centrală

1. Statele Unite ale Americii (SUA) .....	90
2. Canada .....	94
3. Mexic .....	96
4. America Centrală .....	98

## PARTEA a III-a. America de Sud

1. Brazilia .....	100
2. Argentina .....	103
America – Sintează .....	104
Test de autoevaluare .....	106

## Australia – caracteristici generale

Australia .....	110
Australia – Sintează .....	113
Test de autoevaluare .....	114


## Oceania – caracteristici generale

Oceania .....	116
---------------	-----

## Antarctica – caracteristici generale

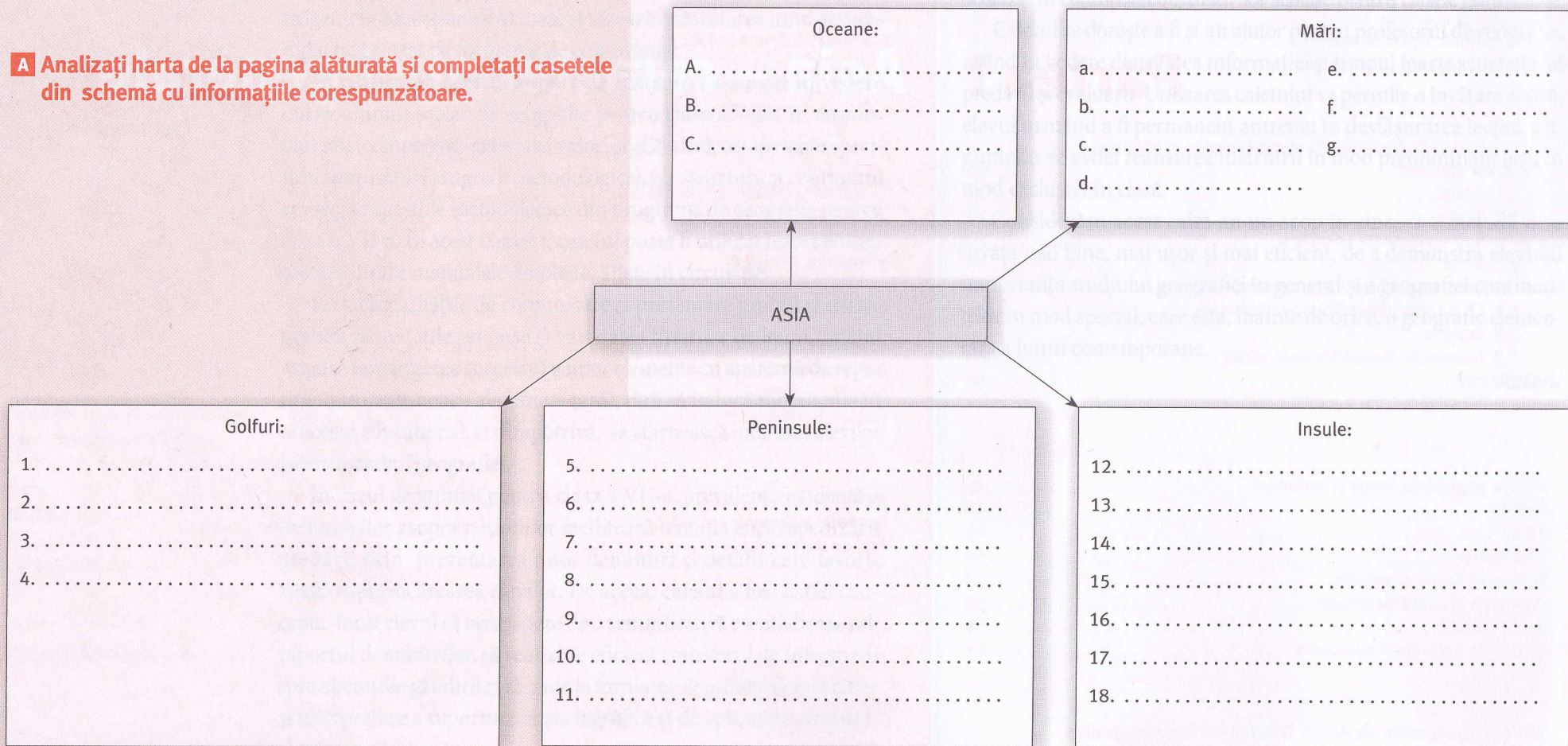
Antarctica .....	118
------------------	-----

# **Partea I** Asia – caracteristici generale



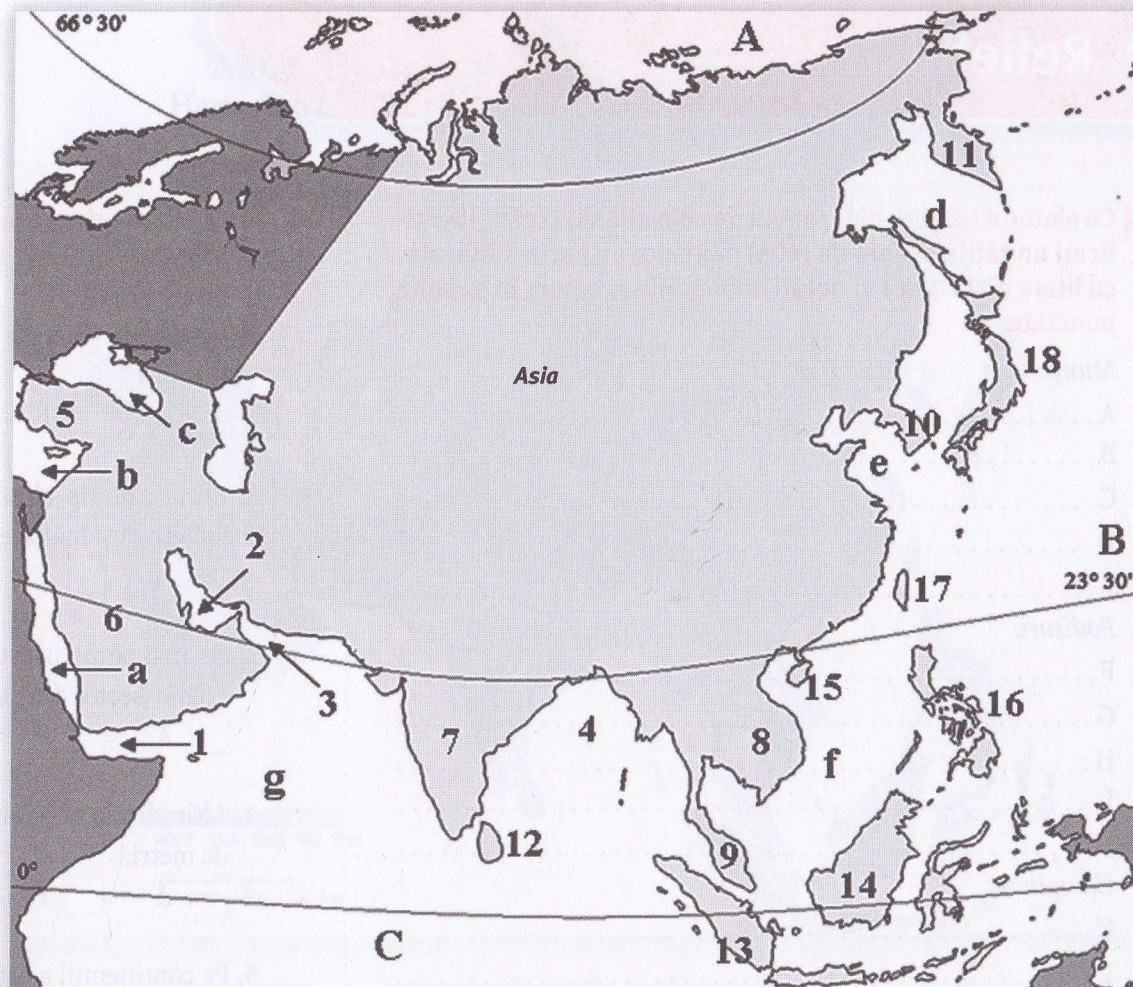
## 1. Poziția geografică, limite și întindere

**A** Analizați harta de la pagina alăturată și completați casetele din schemă cu informațiile corespunzătoare.




**B** Completați propozițiile de mai jos cu răspunsurile corecte.

1. Continentul Asia este situat la est de continentul .....
2. Asia este separată de Africa prin Canalul Suez, aflat în vestul Peninsulei .....
3. Ca întindere, continentul Asia se situează pe locul .....
4. Asia este despărțită de continentul America de Nord prin strâmtoarea .....
5. Țărmul nordic al Asiei este scaldat de apele Oceanului .....



**ȘTIAȚI CĂ ...?**

- Numele de **Asia** a fost dat de către corăbierii fenicieni (care ajung printre primii în Oceanul Indian navigând prin Marea Roșie), „**açur**“ însemnând răsărit în limba feniciană.
- În secolul al XVII-lea, printre ambasadorii trimiși de țarii Rusiei la Peking (Beijing) s-a numărat și spătarul român Nicolae Milescu.



**A** Cu ajutorul hărților din manual sau din atlasul școlar, identificați unitățile majore de relief marcate, pe harta alăturată, cu litere de la A la T și notați denumirile acestora în spațiile punctate.

*Munți:*

- A.....
- B.....
- C.....
- D.....
- E.....

*Podișuri:*

- F.....
- G.....
- H.....
- I.....
- J.....

*Câmpii:*

- K.....
- L.....
- M.....
- N.....
- O.....
- P.....

*Deșerturi:*

- R.....
- S.....
- T.....

**B** Citiți cu atenție afirmațiile de mai jos și stabiliți dacă sunt adevărate sau false. Bifați cu un X căsuța corespunzătoare răspunsului corect.

1. Treptele de relief ale Asiei sunt dispuse în fâșii orientate de la vest spre est.

A     F

2. Munții de tip alpin (Caucaz, Himalaya) s-au format prin încrețirea și înălțarea scoarței terestre.

A     F

3. Cei mai numeroși vulcani se întâlnesc în estul continentului asiatic (sector din „Cercul de foc al Pacificului”).

A     F

4. Altitudinile maxime din continentul asiatic depășesc 8 000 de metri.

A     F

5. Pe continentul asiatic există deșerturi tropicale și deșerturi temperate.

A     F